

6

La división

Nombre: Fecha:

1. Realiza las siguientes divisiones y rodea las que son exactas.

$49 \overline{)7}$

$54 \overline{)6}$







$46 \overline{)5}$

$82 \overline{)9}$

2. ¿Qué datos faltan en la tabla? Completa.

división	Dividendo	divisor	cociente	resto
$50 \overline{)7}$				
$40 \overline{)5}$				
$37 \overline{)4}$				

3. Resuelve estas divisiones y comprueba que están bien hechas.

 $67 \overline{)7}$	prueba	 $46 \overline{)8}$	prueba
			

4. Une con flechas.

- | | |
|-------------------|-----|
| la mitad de 12 • | • 8 |
| un tercio de 12 • | • 3 |
| un cuarto de 12 • | • 4 |
| la mitad de 16 • | • 6 |

5. Reparte estas 15 naranjas entre las tres cajas. ¿Cuántas naranjas tendrás que meter en cada caja?

