



Nombre: Fecha:




1. Completa esta tabla.

operación	minuendo	sustraendo	diferencia
$\begin{array}{r} 876 \\ - 225 \\ \hline \end{array}$ - =		
$\begin{array}{r} 689 \\ - 438 \\ \hline \end{array}$ - =		

2. Calcula estas restas y haz la prueba para ver si están bien resueltas.



3. Escribe otros tres minuendos y sustraendos para obtener la misma diferencia que en el ejemplo.



4. Une con flechas las operaciones que dan el mismo resultado.

- | | |
|--------------------|---------------------|
| $(67 + 17) - 16$ • | • $153 - (23 + 15)$ |
| $(76 + 42) - 60$ • | • $197 - (85 + 54)$ |
| $(42 + 85) - 12$ • | • $212 - (62 + 82)$ |

5. A una excursión a la sierra se han apuntado 132 personas. A mitad de camino, 68 personas se han sentado a descansar y el resto ha ido a beber agua a una fuente. ¿Cuántos excursionistas han ido a beber agua?