

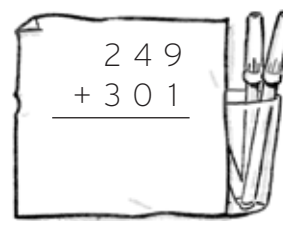


2 La suma

Nombre: Fecha:

1. Completa esta tabla.

| operación | sumandos | suma o total |
|---|-----------------------|---------------|
| $\begin{array}{r} 12 \\ + 74 \\ \hline \end{array}$ | + = | y |
| $\begin{array}{r} 34 \\ + 15 \\ \hline \end{array}$ | + = | y |

2. Realiza las siguientes sumas.




3. ¿Qué números faltan? Escríbelos.

$19 + 33 = 33 +$ 

$588 +$  $= 876 + 588$

$58 + 12 =$  $+ 58$

$$  $+ 547 = 547 + 212$

4. Resuelve estas operaciones. Suma primero los números que están entre paréntesis.

$(54 + 22) + 23 = + =$

$(31 + 24) + 35 = + =$

$32 + (61 + 89) = + =$

5. Completa la tabla siguiente.

| número | se encuentra entre... | el millar más próximo es... |
|--------|-----------------------|-----------------------------|
| 2.875 | 2.000 y 3.000 | |
| 57.469 | | |
| 27.899 | | |